

het paas Speel



Schrijfoefening



Rekenoefening (zie bijlage, elke oefening is genummerd)



Doe-oefening

Wat heb je nodig?

- Het spelbord + rekenkaartjes
- Dobbelsteen
- Pionnen (kan eender wat zijn, knoopjes bijvoorbeeld.)

Begin links onderaan bij de paashaas.

Wie als eerst het paasmandje bereikt, is gewonnen!

Probeer natuurlijk wel zoveel mogelijk opdrachten correct uit te voeren.

Veel speelplezier!



rijm 2 keer op 'kast'

spring 3 keer zo hoog mogelijk

 3 woorden met de klank 'ng'

eet een lekker paaseitje

 3 woorden met de letter 'eu'

kan jij jouw veters nog strikken? doe maar!

 een zin met het woord 'klok'

 3 woorden met de letter 'ui'

 3 woorden met de letter 'uu'

2

3

5

7

9

8

10

maak een koprol in het gras

 een zin met het woord 'paashaas'

zing eens een liedje

tel van 20 naar 0

 3 woorden met de letter 'f'

rijm 2 keer op 'draak'

loop 3 keer rond de keukentafel

4



 een zin met het woord 'soep'








1

 3 woorden met de letter 'sch'





<p>1</p>	<p>Hoe laat is het op deze klokjes?</p> 	<p>2</p>	<p>Los op</p> <p>$20 - 4 = .$</p> <p>$20 - 15 = .$</p> <p>$20 - 11 = .$</p> <p>$20 - 18 = .$</p> <p>$20 - 7 = .$</p>
<p>3</p>	<p>Vul de zinnen aan</p> <p>Net na 9 komt ____</p> <p>Net voor 14 staat ____</p> <p>16 staat tussen ____ en ____</p> <p>Net na 12 komt ____</p> <p>Net voor 20 staat ____</p>	<p>4</p>	<p>Hoe laat is het op deze klokjes?</p> 

	<p>Los op</p> <p>$17 - 12 = .$</p> <p>$15 - 3 = .$</p> <p>$14 - 11 = .$</p> <p>$16 - 2 = .$</p> <p>$19 - 18 = .$</p>		<p>Los op</p> <p>$12 + 2 = .$</p> <p>$4 + 16 = .$</p> <p>$7 + 11 = .$</p> <p>$13 + 6 = .$</p> <p>$1 + 19 = .$</p>
	<p>Hoe laat is het op de klokjes?</p> 		<p>Vul de zinnen aan</p> <p>Net na 10 komt ____</p> <p>Net voor 17 staat ____</p> <p>10 staat tussen ____ en ____</p> <p>Net na 4 komt ____</p> <p>Net voor 18 staat ____</p>
	<p>Los op</p> <p>$20 - 13 = .$</p> <p>$14 + 3 = .$</p> <p>$16 - 13 = .$</p> <p>$2 + 17 = .$</p> <p>$5 + 15 = .$</p>		<p>Los op</p> <p>$20 - 10 = .$</p> <p>$7 + 10 = .$</p> <p>$15 - 5 = .$</p> <p>$16 - 10 = .$</p> <p>$10 + 3 = .$</p>